

## « سال نو مبارک »

نرم نرمک صدای پای بهار به گوش می رسد ،  
سلانه سلانه ، زمستان هجرت می کند . بهار فصل تولد زمین است  
آنجا که خاک قبای سفید از تن می کند و جامه سبز می پوشد .  
بهار فصل تولد دوباره است . فصل رویشی نو و زایشی مبارک ،  
بهار تداعی امید است ، آنجا که زمستان سرد و یخ بسته را  
به امید رسیدن بهاری نو ، پشت سر می گذاریم .  
آنجا که برهنگی درختان را به امید طراوت بهار زینده می بینیم ...  
بهار موسم عشق است ، الفت آب و خاک ، گل و پرند ، سبزه و زمین ...  
عظمت و شکوه خداوند را در تمامی فصول سال می توان به وضوح دید ،  
حلاوت دلچسب تابستان ، صفای برگ ریز پاییز ، غرور سرمای زمستان ...  
اما بهار مهری بر تائید صفت جمیل خداوند است ،

« الله جمیل و یحب الجمال »

بهار آنجا زینده تر است که دلهامان نیز بهاری باشد ،  
دلهامان آکنده از نشاط سبز باشد و لیریز از سرودی خوش ...  
در آستانه تولد دوباره زمین ...  
دلی پر امید ... قلبی پر تپش ... دستانی با برکت ... لبانی پر خنده ...  
پاهایی پر توان ... کسب و کاری پر رونق ...  
و سالی پر نشاط را برای همه شما آرزومندیم .

« مدیر دبستان »




## شعر بهاری

### شعر بهاری

بوی باران ، بوی سبزه ، بوی خاک  
شافه های شسته ، باران خورده ، پاک  
آسمان آبی و ابر سپید  
برگهای سبز بید  
عطر نرگس ، رقص باد  
نغمه شوق پرستوهای شاد  
قلوت گرم کبوترهای مست

نرم نرمک می رسد اینک بهار



فوش به حال روزگار  
فوش به حال چشمه ها و دشتها  
فوش به حال دانه ها و سبزه ها  
فوش به حال غنچه های نیمه باز  
فوش به حال دفتر میمک که می فندد به ناز  
فوش به حال آفتاب

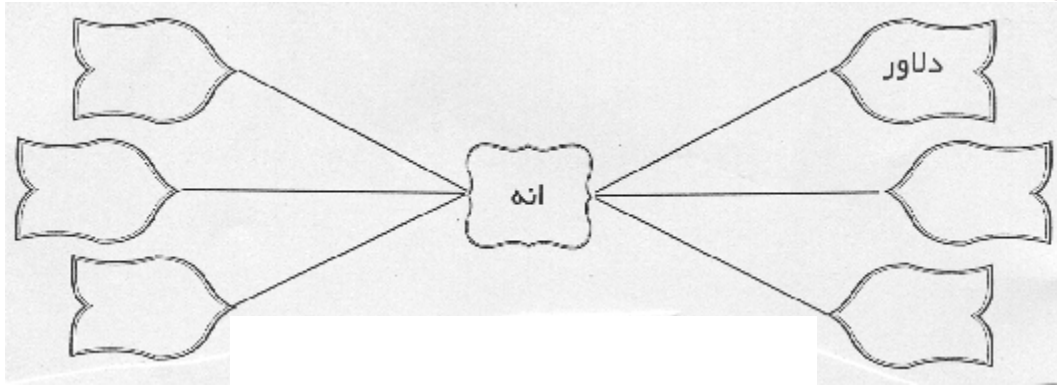
ای دریغ از تو اگر چون گل نرقصی با نسیم  
ای دریغ از من اگر مستم نسازد آفتاب  
ای دریغ از ما اگر کامی نگیریم از بهار  
گر نکوپی شیشه غم را به سنگ  
هفت رنگ می شود هفتاد رنگ

هر روزتان نوروز  
نوروزتان پیروز



## بفوانیم و بنویسیم

1- مانند نمونه کامل کن و با هر دو کلمه یک جمله بساز.



2- متن های زیر را بفوان و در جای مناسب نشانه های « . - ؟ - ! - ، » به کار ببر.  
\* بزرگ ترین گناه ترس بزرگ ترین تفریح کار و بزرگ ترین سرمایه اعتماد به نفس است

\* به روباه گفتند شاهرت کیست گفت دم  
3- کامل کن.

\* اگر من به جای اریسون بودم .....  
.....  
\* اگر من کاشف بودم ..... را کشف می کردم و .....  
.....

4- کلمه ی مناسب را از داخل ( ) انتخاب کن و در جمله قرار بده.  
\* شهر شیراز بسیار ..... ( دیدنی ، دیدنی تر ) است.  
\* میدان انقلاب جزو ..... ( شلوغ ترین ، شلوغ تر ، شلوغ ) فیابان های تهران است.

5- یکی از اختراعاتی که دوست داری در آینده آن را انجام دهی ، بنویس.

6- مانند نمونه برای جدول پرسش بنویس.

ا	ث	ر	و	ت	م	ل	ی
۲	ا	ر	گ	ب	م		
۳	ح	ا	ف	ظ	ی	ه	
۴	پ	ش	ت	ک	ا	ر	
۵	ب	ه		ن	ف	ت	

..... 1-

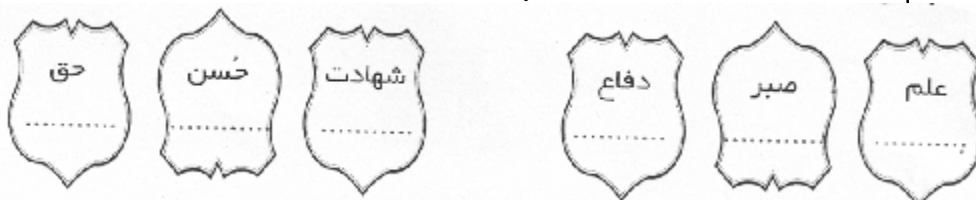
..... 2-

..... 3-

..... 4-

5- به معنای بهتر است. طلای سیاه

7- هم خانواده ی کلمه های زیر را بنویس.



8- این دسته از کلمه های زیر را مرتب کن و با آن ها جمله بساز.

\* امام ، برای ، از ، به ، حسین ، (ع) ، دفاع ، حق ، رفت ، کربلا



9- برای شکلهای رو به رو ، داستان بنویس.

.....  
 .....  
 .....  
 .....

10- در کلمات زیر اسم ، فعل و صفت را مشخص کن و بنویس.

بهار ، رسید ، دشت ، سبزه ، نغمه فوان ، روستا ، شکوفه ، قشنگ ، شادی ، پیمپره ،

فندان ، آمد ، می کنند ، فانه .






داستان را بفوان و به سؤالات پاسخ بده.

## پرنندگان مهاجر

پرستوها پرنندگانی کوچک ، زیبا و اجتماعی هستند و معمولاً در گروه های بزرگ دیده می شوند. زیستگاه پرستوها معمولاً دشت های باز و هموار ، کشتزارها و علفزارها ، کنار برکه ها ، رودها ، صفره ها و دیواره های کنار رودهاست. بسیاری از آنها از جمله پرستوی معمولی با مملّ زندگی انسان ها انس و نزدیکی دارند. پرستوی معمولی که تقریباً در سراسر کره ی زمین به غیر از مناطق فیلی سرد و بعضی جزیره های دور افتاده دیده می شود، پیام آور بهار در ایران است. درازای بدن پرستوی معمولی حدود 19 سانتی متر است. دم دو شافه ای دراز دارد. پشت پرستو آبی پر رنگ و برآق است. پیشانی و گلو ، سرخ مایل به قهوه ای روشن ، قسمت پایین گلو آبی تیره ، سینه و شکم سفید قلمه ای است. لانه اش را با گل و کاه در قانه ها ، انبارها ، طویله ها و زیر پل ها می سازد و در دشت ها و کشتزارها به شکار حشره ها از جمله مگس ها و پشه ها می پردازد.



1- با توجه به متن به پرسش ها پاسخ بده.

\* چرا می گوئیم پرستوها ، اجتماعی هستند؟

.....

\* کدام پرنده پیام آور است؟

\* تغذیه ی پرستوها چیست؟

\* پنج کلمه ی مشکل از متن درس پیدا کن و بنویس.

.....

\* حالا بدون نگاه کردن به کلمه ها ، هر چند کلمه که یادت مانده بنویس.

## ریاضی

1- شیوا 25 شافه گل خرید تا در روز معلم بین 8 معلم تقسیم کند. با شکل نشان دهید دسته گل های او چند شافه گل خواهد داشت.

آیا از گل ها پیزی اضافه می ماند؟ پیشنهاد می کنید باقی مانده را به چه کسی برده؟

2- بزرگترین عددی که در  $\bigcirc$  می توان نوشت تا نامساوی درست باشد کدام است؟

الف) 10      ب) 20      ج) 18      د) 19       $\bigcirc 6 < 120$


3- ابتدا در جای خالی بزرگترین عددی را که می توان نوشت تا نامساوی درست باشد، بنویسید سپس تقسیم را نوشته و حل کنید و در انتهای کار جاهای خالی را پر کنید.

مقسوم :      مقسوم علیه :      خارج قسمت :      باقی مانده :       $\bigcirc 7 < 65$

4- جدول زیر را کامل کنید.

عدد به رقم	عدد به رقم و حروف	عدد به حروف
۱۶۷۰۳۵۰۰		
		سی صد میلیون و چهار هزار

5- اعدادی را که روی دیوار مقابل نوشته شده است. طوری در پریم های سمت راست بنویسید که عدد روی پلاکاردهای هر کودک درست شود.





# سرگرمی و ریاضی

1- آیا می دانید اولین خودروی پیکان چه سالی به بازار ایران وارد شد؟ سال

.....

حل تقسیم های زیر شما را در یافتن پاسخ کمک خواهد کرد.

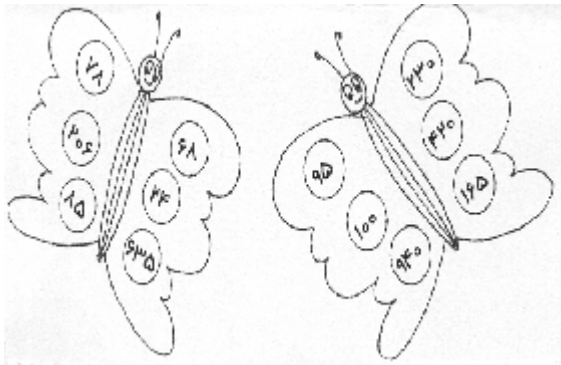
۲۸۱۴۰	۴	۱۵۰۰۰	۵
رقم .....			
در خارج قسمت ها مشترک است. آن را در محل رقم دهگان سال مورد نظر بنویسید.			

۱۲۸	۸	۱۵۳۰	۵
رقم .....			
در خارج قسمت ها مشترک است. آن را در محل رقم یکان سال مورد نظر بنویسید.			

۱۵۳	۳	۹۰۷۲	۹
رقم .....			
در خارج قسمت ها مشترک است. آن را در محل رقم دهگان هر دو سال مورد نظر بنویسید.			

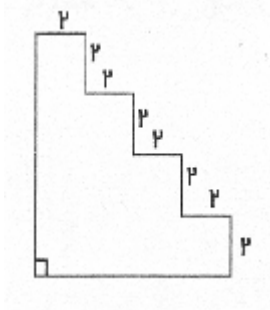
۳۰۱۷	۷	۸۴۰	۶
رقم .....			
در خارج قسمت ها مشترک است. آن را در محل رقم دهگان سال مورد نظر بنویسید.			

2- در بین اعدادی که روی بال پروانه ها نوشته شده آن هایی را که بر 2 بخش پذیرند



زرد و اعداد بخش پذیر بر 5 را آبی رنگ رنگ کنید. آیا رنگی به غیر از زرد و آبی هم مشاهده کنید؟ این رنگ مربوط به کدام عدد است؟

3- محیط شکل مقابل را حساب کنید.



این تصویر، چهار پله را از کنار نشان می دهد. اگر یک پله ی از پایین اضافه شود، محیط شکل بقدر افزایش خواهد یافت؟

4- علامت  $< = >$  بگذارید.

$$\frac{7}{12} \bigcirc \frac{9}{12}$$

$$\frac{1}{3} \bigcirc \frac{1}{5}$$

$$\frac{0}{3} \bigcirc \frac{0}{7}$$

5- در شکل مقابل چند مثلث دیگر باید رنگ شود تا 3 شکل رنگ شده باشد؟



5

6- به اندازه کسر نوشته شده در هر لیوان شیر کاکائو بریزید.



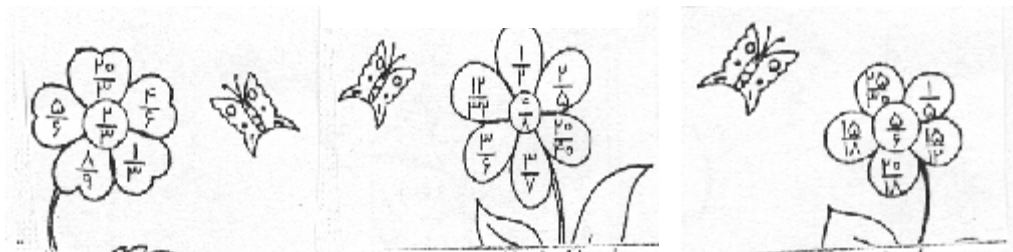
7- آقا کربه چه کسری از پیتزا را خورده است؟



8- کدام شکل دو کسر مساوی را نشان می دهند؟

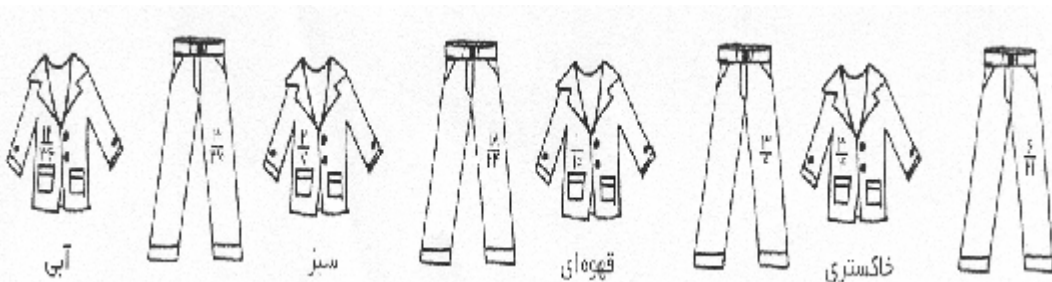


9- در هر گل، گلبرگ هایی را که کسرهای مساوی با وسط گل را نشان می دهند، رنگ کنید



10- کت مربوط به شلوار را پیدا کنید و هر دست لباس را با رنگ مشخص شده رنگ کنید.

کسرهای مساوی به شما کمک خواهند کرد.





## مهارت‌های زندگی



### دوستی‌ها

دانش آموز جدیدی وارد کلاس شما شده و دوست دارد که با بعضی از دانش آموزان این کلاس دوست شدند. اما نمی‌داند هیکار باید بکند ، چه راه‌هایی را به او پیشنهاد می‌کنید.



### سرگرمی

با توجه به پاسخ‌ها در جدول ، برای هر کدام ، یک پرسش مانند نمونه بنویس.

۱۳۴	۹	۸	۱۱	۶	۴	۳	۱	۱۱
ی	ط	ح	ی	م	ک	م	ا	ا
ک	و		۱۱	ر	و	ج	د	ن
ا	ل	ن	ی	ب	د	ز	د	ف
ن		ی	م	ع	د	ا	د	ر
ع		س	ا	۷	۷	ز	د	د
د		ا	ر	۵	۵	ی	ا	ن
د		ر	ا			ی	ا	ن

- ۱ ..... خط عمود از اساس بر ضلع مقابل شکل هندسی ۷
- ۲ ..... ۸
- ۳ ..... ۹
- ۴ ..... ۱۰
- ۵ ..... ۱۱
- ۶ ..... ۱۲

کامپیوتر



وب سایت های فوب  
برای بچه های فوب

<http://www.amoo.ir/>

عمو پورنگ

در این وب سایت به بخشهای ارسال کارت پستال ، آلبوم عکسهای بچه ها ،  
گزارشهای تصویری ، موسیقی و ترانه ، بازی ها و سرگرمی ها ، فروشگاه مجازی ،  
وبلاگهای طرفداران عمو پورنگ و تالار گفتگو می توان دست یافت.

تا حالا به این موضوع فکر کردید که چگونه می توان از دسکتاپ عکس گرفت و آن را  
در محیط نقاشی برد ، حالا از دسکتاپ فوتتان عکس بگیرید و آن را در محیط نقاشی  
ببرید و بوسیلهٔ چاپگر چاپ کنید و در کنار زیر ببسبانبند.





## علوم

1- به شکل گیاه آفتابگردان ، که در اینجا کشیده شده است ، دقت کن.



\* اگر این تصویر شکل کامل یک گیاه را نشان نمی دهد ، آن را کامل کن.  
\* در تصویر بالا مسیر حرکت آب و مواد داخل فاک را در داخل گیاه رسم کن و به سؤالات زیر پاسخ بده.

1- گیاه آفتابگردان در کدام قسمت غذا می سازد؟

ریشه       ساقه       برگ       دانه

2- گیاه، غذای سافته شده را در کدام قسمت ذخیره می کند؟

ریشه       ساقه       برگ       دانه

3- گیاه برای سافتن غذا به آب و مواد معدنی نیاز دارد. کدام بخش گیاه آب و مواد معدنی را جذب می کند؟

ریشه       ساقه       برگ       دانه


4- گیاه برای سافتن غذا به دی اکسید کربن موجود در هوا نیاز دارد. این گاز از کجا وارد گیاه می شود؟

ریشه       ساقه       برگ       دانه

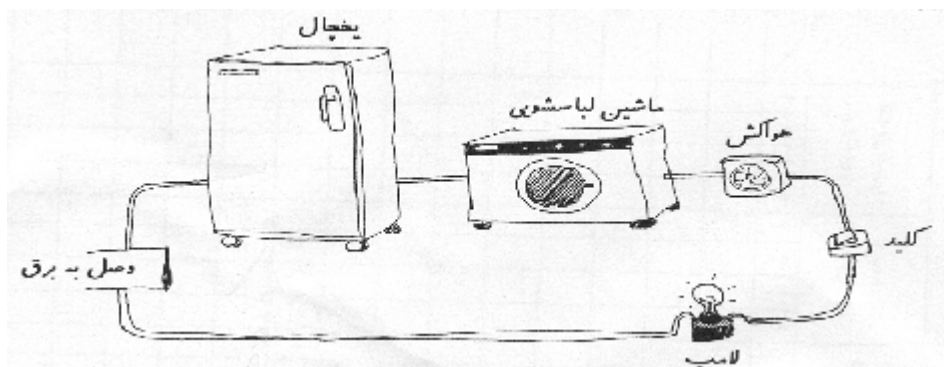
5- موادی که در فاک هستند ، توسط کدام قسمت از گیاه به برگ هدایت می شوند؟

ریشه       ساقه       برگ       دانه

2- کدام یک از دو محیط مقابل برای زندگی مناسب تر است؟ چرا؟  
 نظر خود را در دو سطر بنویسید.



3- در یک آشنزفانه، معمولا وسایلی مثل یخچال، لباسشویی، هواکش و لامپ، با جریان برق کار می کنند. برای این آشنزفانه، در شکل، مدار ی بسته شده است که با یک کلید، همه ی وسایل آن روشن یا خاموش شوند.



4- امکان یافتن فسیل در کدام یک از محیط های زیر بیشتر است؟ چرا؟



سبزه دزیاء و جنگل

کوهستان و دشت



## هدیه های آسمانی

1- سه نمونه از کارهایی را بنویس که برای سربلندی در جهان آخرت می توانی آخرت دهی؟

.....  
.....  
.....

2- حضرت محمد (ص) پیامبر گرامی اسلام، از دوران جوانی به امانت داری معروف بود و به همین دلیل به ایشان ..... می گفتند.

3- روز برگزیده شدن حضرت محمد (ص) به پیامبر را چه می نامند؟

4- رسول خدا فرمودند: به خدا قسم، پروردگار مهربان به من بهتر از ..... نصیب نفرمود.

5- هر وقت به زیارت امام رضا (ع) بروم از او می خواهم .....

6- کاظم یعنی چه و لقب کدام امام است؟ .....

7- درباره ی رفتار پیامبر خدا با فویشاوندانش یک عبارت زیبا بنویس و از کلمات ( احترام، محبت - آرزو ) در آن استفاده کن.

.....

## سرگرمی



۱	۲	۳	۴	۵	۶	۷	۸	۹
			☆					
	☆		☆			☆		
☆			☆		☆		☆	
☆		☆	☆			☆		☆
	☆		☆	☆				
			☆			☆		
	☆			☆			☆	

### اقتضی

- ۱- همه ی سنگ ها از ..... ساخته شده اند - تقسیم برنامه ی کار معلمان از وظایف او می باشد.
- ۲- خاک سفالگری - اندک - نام میوه ای است.
- ۳- وامر اندازه گیری پارچه - دوست و رفیق
- ۴- رودی که به دریایه ی بنگال می ریزد - دو یا چند ماده را که با هم بیامیزیم و خواص آن ها تغییر کند.
- ۵- به هر قسمت از سوره می گویند - در زمان های قریم مردم گمراه به جای پرستش خدا آن را می پرستند.
- ۶- مفر است - بر روی آب می بندند تا آن را ذخیره سازند - فلزی رسانا
- ۷- قومی که به رهبری اشک با بیگانگان جنگیدند - می گویند فالواده هایی که پیش از ..... فرزند داشته باشند ، پر جمعیت هستند.
- ۸- رودی است اروپایی - از علامات دمج - خاک دشت کوپر به خاطر وجود آن شور است.
- ۹- بنیاد - از راه بینی پورا ..... می کنیم.

### عمودی

- ۱- کوردکان به این نوع انگل بیشتر چهار می شوند - در قدیم را این گونه بیان می کردند.
- ۲- نام پندری همسایه در کنار دریای خزر
- ۳- کوچکترین عدد فرد - مونس دولت اشکانی
- ۵- اگر آهن ربا را در یک امتداد بر روی آن بکشیم تبدیل به آهن ربا می شود.
- ۶- به معنی تعی است اما حرف اولش اختار.
- ۷- امروزه یکی از موارد استفاده گیاهان توتیه ی ..... در پزشکی است - هم فالواده ی آتیس است.
- ۸- پهلوان و دایر - شعری است در نامه ی گرم و شنگ.
- ۹- در زمان اشکانیان کشوری قدرتمند بود که مورد دوم پر آن ها پیروز شد - در زمان داریوش هفت فرید و فروش آن را از طلا ساختند.



## تعلیمات اجتماعی



### ایران شناسی آب و هوا

1- به تصویرها به دقت نگاه کن. هر مکان کدام نوع از آب و هوای ایران را نشان می دهد؟  
در یک خط

بمله بنویس که وضع آب و هوا در هر کدام چه شرایطی دارد؟




2- بندرها برای کشورمان چه اهمیتی دارند.

3- زبان و خط رسمی ملت ایران چیست؟

4- دو نمونه از مشکلات شهرهای بزرگ را بنویس.


مدنی ↓  
این بچه ها ساکن یک مقله هستند. می خواهند در کوچه ی مقل زندگی خودشان بازی کنند.  
بازی برای سلامتی و رشد بچه ها لازم است. اما برای بازی کردن باید به چیزهای زیادی توجه کرد. برای این که بچه ها بتوانند بازی کنند. برای آنها قانون بنویس تا هم آنها بازی کنند و هم مشکلی برای ساکنان مقله پیش نیاید و هم این که واقعا نه کسی، آزاری نرسد.



نقاشی



روز زیبایی طبیعت



منابع درسی مورد استفاده: کتب درسی - کتب « باز هم می توانم » انتشارات رشد اندیشه